



# МАТЕМАТИКА БЕЗ ГРАНИЦИ

1 КЛАС

ЗИМА 2018

Имена на участника: .....

Училище:.....

Населено място: .....

Отговорите запишете в:

Време за работа – 35 минути.

Задача 1. Пресметни  $1 + 2 + 3 + 4 - 9$ .

Задача 2.

$$\text{❄} + \text{💧} = 7$$

$$\text{💧} - \text{❄} = 1$$








$$\text{💧} = \text{$$

**Задача 3.**

$$2 + 2 - \text{☺} = \text{☺} + 2$$

$$\text{☺} = \square$$

**Задача 4.**

	+		=	
	+		=	
	=	2		

$$\text{Pear} = \square$$

**Задача 5.** Кое от посочените числа 9, 8 и 1 трябва да поставим вместо ☹, така че

$$2 + 7 > \text{☹}$$

да НЕ е вярно?

**Задача 6.** Не ми стигат 2 бонбона, за да имам 5 бонбона.



Колко бонбона не ми достигат, за да имам 7 бонбона?

**Задача 7.** Пресметнете 😞 – 😊 + 😄, ако


$$1 + 2 = 😞$$

$$😞 - 2 = 😊$$

$$7 + 😊 = 😄.$$

**Задача 8.** Алекс и Феликс са близнаци и са с 2 години по-малки от сестра си Ейми. Ейми е на 3 години. Колко е сборът от годините на тримата?

**Задача 9.** С колко жълда ще се прибере катеричката в хралупата си?



**Задача 10.** Днес е понеделник. След 3 дни ще е петък. Кой ден ще е 3 дни след петък?

**Време за решаване на задачите:** ..... минути (попълва се от квестора)

**Квестор(и):** .....  
(име, фамилия, подпис)