



Състезание „Аз и числата”

I клас


Училище: клас:.....

Име, презиме, фамилия:

1. Нина си купила 3 зелени молива и още толкова сини. В чантата имала още 2 червени молива. От всичките изгубила един молив. Колко молива има Нина?

Огради верния отговор.

- а) 8 молива;
- б) 5 молива;
- в) 7 молива.



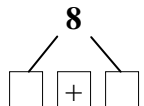
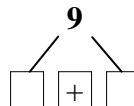
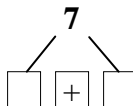
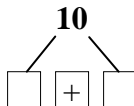
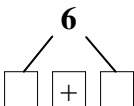
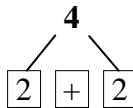
2. От всеки три числа огради в кръгче числото, което е сбор на останалите две.

Пример: 4, 14, 10

- 8, 12, 20;
- 16, 4, 12;
- 5, 5, 10.

3. Запиши подходящи числа в празните квадратчета.

Пример:



4. Огради две съседни числа, така че сборът им да е 15.

Пример: 3 (10) (5) (7) (8) 11 2 4 5 0


1 14 3 0 12 3 10 9 6 4

15 0 19 6 11 4 3 2 10 7

5. Борис има 17 снимки на спортисти, Георги - с 3 по-малко от Борис, а Иван има 11. Колко снимки на спортисти има Георги? Огради верния отговор.

- а) 8;
- б) 14;
- в) 6.

6. На един рафт имало подредени десет книги. Третата от ляво на дясно е „Хари Потър”. Коя по ред е тази книга от дясно на ляво? Огради верния отговор.




- а) седма;
- б) шеста;
- в) осма.

7. Довърши редицата като нарисуваш съответен брой квадратчета.

<input type="checkbox"/> <input type="checkbox"/> <input type="checkbox"/> <input type="checkbox"/> <input type="checkbox"/> <input type="checkbox"/>	<input type="checkbox"/> <input type="checkbox"/> <input type="checkbox"/> <input type="checkbox"/>			
---	---	--	--	--

8. Оцвети фигурите, в които няма ъгли.



9. Запиши с цифра и две букви следните думи:

Пример: ТРИЦИ

3	Ц	И
---	---	---

ПЕТКО

--	--	--

ТРИОН

--	--	--

10. Ваня имала аквариум с 9 рибки. Купила си още 4.
Подарила 2 на Катя и 1 на Мими.

Колко рибки ѝ останали? Огради верния отговор.

- а) 11 рибки;
- б) 9 рибки;
- в) 10 рибки.

