



**IV клас**

\_\_\_\_\_  
/училище/

\_\_\_\_\_  
/име, презиме, фамилия/

**1. Отговори с ДА или НЕ.**

Въздухът прониква навсякъде. \_\_\_\_\_

Водата НЕ е добър разтворител. \_\_\_\_\_

Водата поддържа горенето. \_\_\_\_\_

Дъждът, снегът и градушката се наричат валежи. \_\_\_\_\_

**2. Какво символизират лъвовете на герба на България?  
Отговори с едно изречение.**

\_\_\_\_\_  
\_\_\_\_\_  
\_\_\_\_\_



**3. В коя част на България се намира град Видин?**

- а) северозападна България;
- б) североизточна България;
- в) югозападна България.



#### 4. В кой ред има само течни горива?

- а) бензин, въглища, мазут;
- б) бензин, природен газ, дърва;
- в) бензин, нафта, мазут;

#### 5. Запиши имената на древните паметници, изобразени на снимките.



Казанлъшка

---



Рилски

---



Мадарски


---

#### 6. Кой век е:

- а) 681 г. - \_\_\_\_\_ век
- б) 814 г. - \_\_\_\_\_ век
- в) 917 г. - \_\_\_\_\_ век


#### 7. Край кой български град е изградена първата атомна електроцентрала (АЕЦ) на Балканския полуостров.

- а) край Свищов;
- б) край Белене;
- в) край Козлодуй.



**8. За кой град се отнася написаното:**

*”В единия край на Морската градина на града има Аквариум, а в другия – Делфинариум. Недалече от него е разположен известният скален Аладжа манастир”?*



**9. С думата *елини* били наричани:**

- а) гърците;
- б) римляните;
- в) траките.

**10. Може ли да се отделят лесно метални стружки от шепа сол? Как? Отговори с едно изречение.**

---

---


**11. Запиши кой знак какво находище от полезни изкопаеми показва на картата.**



---



---



---

**12. Най-големите замърсители на речните и морски води са:**

- а) водораслите и мидите;
- б) битовите и промишлените отпадни води;
- в) туристите и техните деца.

**13. Свържи всяка планина с нейния най-висок връх.**

Стара планина

Мусала

Рила

Вихрен

Пирин

Ботев

Родопи

Черни връх

Витоша

Голям Перелик

**14. У нас е лято, когато към Слънцето е наклонен:**

- а) Южният полюс;
- б) Северният полюс;
- в) нито един от двата.

