



# АЗ И ЧИСЛАТА

I клас

/училище/

/име, презиме, фамилия/

**1. Открий числата и ги запиши в празните квадратчета така, че навсякъде да получиш един и същи сбор.**

$3 + 4 + \square = 9$

$\square + 2 + 3 = 9$

$1 + 2 + \square = 9$

$7 + \square + 1 = 9$

$4 + 2 + \square = 9$

$1 + \square + 1 = 9$

**2. Разгледай внимателно числата в луничките. Открий кои числа трябва да запишеш в снежинките.**



**3. Колко пъти е записана цифрата 1?**

а) 10 пъти;


б) 11 пъти;

в) 12 пъти.



4. Запиши и оцвети верния отговор.

$$9 - \square = 3$$



5. Открой скритите числа и ги оцвети.



6. В Коледната нощ горели 8 свещи. Христо изгасил 3 от тях. Колко останали?

а) 3;

б) 5;

в) 9.



7. Пресметни и попълни както е показано.

$$5 + 3 = 8$$

$$8 + \square = 9$$

$$\square - 6 = \square$$

$$\square + 2 = \square$$

$$\square - 4 = \square$$

$$\square + 6 = 7$$

8. Мими тежи 9 кг. Тя е с един килограм по-тежка от Ани и с два кг по-тежка от Лили. Колко килограма е:

а) Ани - \_\_\_\_\_ кг

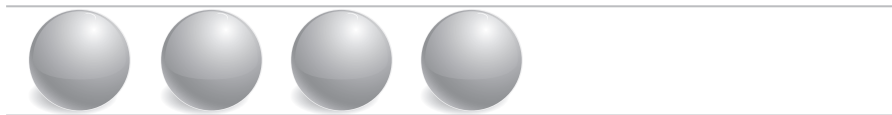
б) Лили - \_\_\_\_\_ кг

9. Кое дете кой снежен човек е направило?  
Пресметни и свържи.



10.

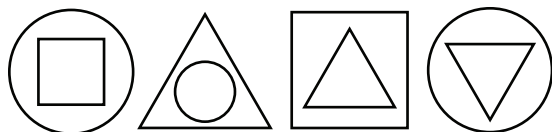
а) Нарисувай 2 топки повече, отколкото са тези на рисунката.



б) Нарисувай с 3 балончета повече от топките.



11. Колко квадрата, триъгълника и кръга има на картината? Запиши.



○ \_\_\_\_\_ бр.  
△ \_\_\_\_\_ бр.  
□ \_\_\_\_\_ бр.