



# АЗ, ПРИРОДАТА И СВЕТЪТ

**II клас**

\_\_\_\_\_  
/училище/

\_\_\_\_\_  
/име, презиме, фамилия/

## 1. Попълни своята анкетна карта.


А. Трите имена \_\_\_\_\_

Б. Родина \_\_\_\_\_

В. Роден град/ село \_\_\_\_\_

Г. Училище \_\_\_\_\_

## 2. Петър и Емилия са брат и сестра. Вуйчото на Емилия се казва Симеон. Как се казва вуйчото на Петър?



Отговор: \_\_\_\_\_

**3. Всяка вечер татко прибира от училище мен и брат ми с колата, а мама взема сестричката ни Ани от детската градина. От колко души се състои нашето семейство? Огради верния отговор.**

а) 4

б) 5


в) 6

**4. Въздухът, водата и храната са жизнено важни за човека. Най-дълго човек може да издържи без:**

а) въздух

б) храна

в) вода



**5. Кое правило е свързано с хигиената на хранене?**

а) Бъди вежлив с учителите.


б) Измивай плодовете преди ядене.

в) Не обиждай съучениците си.

**6. Във всеки ред има по една излишна дума.**

**Открий и огради.**

- а) котка, куче, мишка, автобус
- б) автомобил, велосипед, слон, кораб
- в) молив, химикал, учебник, заек



**7. Огради само членовете на семейството.**

чичо      леля      майка      братовчед      дъщеря      баща

**8. Запиши ПРАВО или ЗАДЪЛЖЕНИЕ.**

Редовно посещавам училище.

\_\_\_\_\_

Изказвам свободно своето мнение.

\_\_\_\_\_

Подреждам и почиствам работното си място.

\_\_\_\_\_

Избирам училището, в което искам да уча.

\_\_\_\_\_




**9. Кои фамилии произхождат от професии?  
Огради.**

- а) Иванов
- б) Петров
- в) Бояджиев
- г) Рибаров
- д) Градинаров



**10. Как децата стигат до училище? Отбележи с V.**



**11. Огради безопасното поведение на Лили на улицата.**

- а) Пресича извън пешеходната пътека.
- б) Пресича на зелен светофар.
- в) Играе по средата на уличното платно.