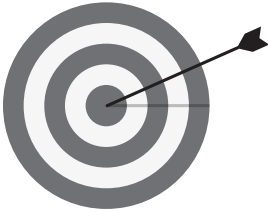




# СДРУЖЕНИЕ НА БЪЛГАРСКИТЕ НАЧАЛНИ УЧИТЕЛИ

гр. София, 1505, бул. "Мадрид", № 18, ет. 1, [www.sbnu.org](http://www.sbnu.org)



## НАЦИОНАЛНО ФИНАЛНО СЪСТЕЗАНИЕ

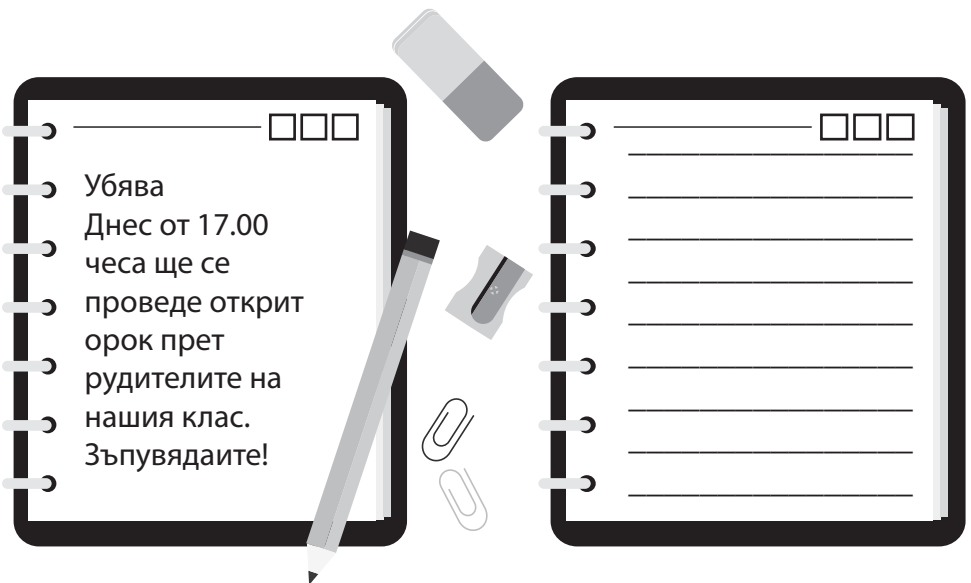


**III клас**

/училище/

/име, презиме, фамилия/

1. Препиши текста като поправиш допуснатите грешки.



2. Като отделиш първите срички от думите и ги съединиш, ще прочетеш пословица. Запиши я.

*воля, давам, гараж, зимен, жалост, ден, хора, диня*

---

3. Подреди думите в изречение. Превърни го във въпросително и в подбудително.

*отиде, магазина, до, Ники*

Съобщително: \_\_\_\_\_

Въпросително: \_\_\_\_\_

Подбудително: \_\_\_\_\_

4. Прочети стиховете по двойки. Сравни подчертаните думи и запиши значението им.

*Стъпила в реката плитка,  
нее Руска, реше плитка.*

плитка - \_\_\_\_\_

плитка - \_\_\_\_\_

*Вчера срещнах Петковия син,  
зъби тракаше, от студ бе син.*

син - \_\_\_\_\_

син - \_\_\_\_\_

5. На Цветница учителката на Кирил получила много цветя: 27 карамфила, които били с 8 по-малко от лалетата и с 20 повече от нарцисите.

Колко пъти лалетата са повече от нарцисите?

---

---

---

Отговор: \_\_\_\_\_

6. Реши задачата вярно, за да научиш колко километра е дълга източната граница на България.

$$1000 - 100 : 10 - (32 \cdot 8) + 786 : 6 - 487 =$$

---

---

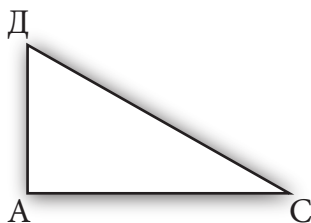
---

---

Отговор: \_\_\_\_\_

7. Кое твърдение за триъгълника е вярно?

- а)  $\triangle CAD$  – равностраничен и правоъгълен
- б)  $\triangle CAD$  – разностранен и правоъгълен
- в)  $\triangle CAD$  – равнобедрен и тъпоъгълен



8. В стола обядват 43 деца, като на девет от масите са седнали по три деца, а на всички останали маси са седнали по 4 деца. Колко са масите в стола?

---

---

Отговор: \_\_\_\_\_

9. В коя колона всички отговори са верни? Огради.

а)  $100 \text{ см} = 1 \text{ м}$   
 $1 \text{ дм} = 10 \text{ мм}$   
 $1 \text{ век} = 12 \text{ мес.}$   
 $1 \text{ ч.} = 60 \text{ сек.}$

б)  $1000 \text{ м} = 1 \text{ км}$   
 $1 \text{ дм} = 10 \text{ см}$   
 $100 \text{ год.} = 1 \text{ век}$   
 $60 \text{ сек.} = 1 \text{ мин.}$

10. Българската държава е създадена през:

а) 681 г.      б) 855 г.      в) 870 г.

11. Владетелят, който въвел християнската религия в България, е:

а) хан Крум  
б) хан Омуртаг  
в) княз Борис I



12. Разгледай животните. Кое прави изключение според средата на живот? Оцвети го.

