










32. ЧИСЛАТА ДО 100 И ДЕЙСТВИЯТА С ТЯХ

| | | | | | | | | | |
|----|----|--|--|--|---|----|---|----|-----|
| 1 | 2 | 3 | 4 | 5 | 6 | 7 | 8 | 9 | 10 |
| 11 | 12 | 13 |  Къща | 15 | 16 | 17 | 18 | 19 | 20 |
| 21 | 22 | 23 | 24 | 25 | 26 | 27 | 28 | 29 | 30 |
| 31 | 32 |  Детска градина | 34 | 35 |  Ресто- рант | 37 |  Храм | 39 | 40 |
| 41 | 42 | 43 | 44 | 45 | 46 | 47 | 48 | 49 | 50 |
| 51 | 52 | 53 | 54 |  Бензино- станция | 56 | 57 | 58 | 59 | 60 |
| 61 | 62 | 63 | 64 | 65 | 66 | 67 | 68 | 69 | 70 |
| 71 | 72 |  Учи- лище | 74 | 75 | 76 | 77 |  Поща | 79 | 80 |
| 81 | 82 | 83 | 84 | 85 |  Музей | 87 | 88 | 89 | 90 |
| 91 | 92 | 93 |  Магазин | 95 | 96 | 97 | 98 | 99 | 100 |

1. На мястото на кои числа в схемата е: къщата на Боби, магазина, училището, бензиностанцията, храмът, пощата, ресторанта, детската градина, музея?

2. Запиши със стрелки как ще стигне Боби от:

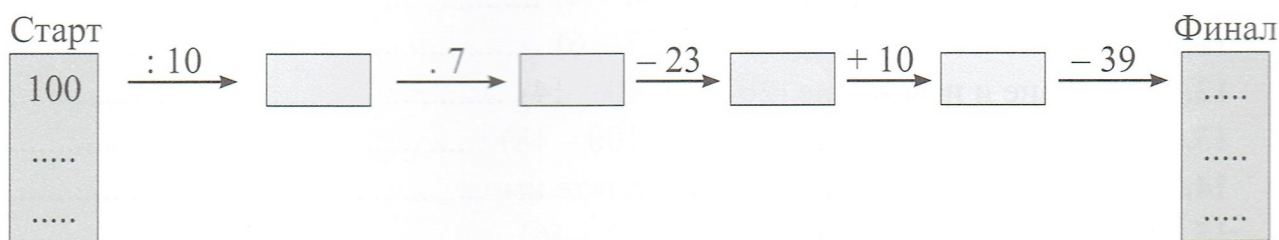
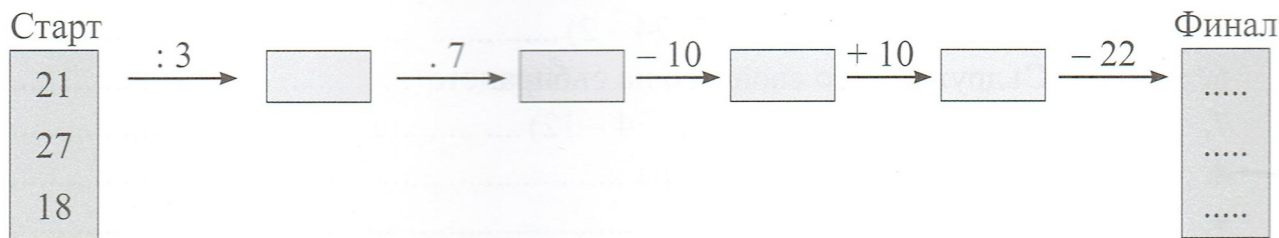
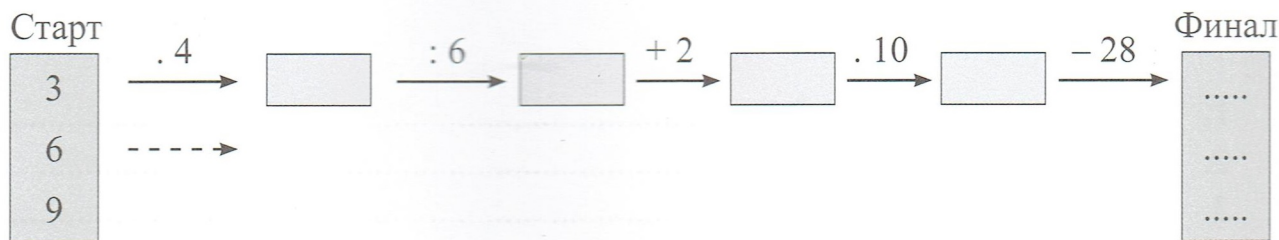
а) дома си до училището на сина си; _____

б) бензиностанцията до магазина; _____

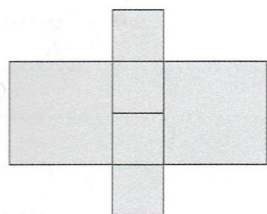
в) пощата до ресторанта; _____

г) детската градина на дъщеря си до дома си. _____


3. Попълни



4. Намери обиколката на голямата фигура, ако знаеш, че обиколката на малкия квадрат е 16 м.



5. Запиши броя на оцветените квадратчета, като използваш умножение и събиране.



4
